

Вариант 1

Используя электронный учебник Артемов В.В., Лубченков Ю.Н.
История: В 2 ч.Ч. 2

Изучите § 92. Международные отношения

Выполните следующие задания:

1. Мир на пороге XXI века. Выберите и запишите цифрами (сферху вниз) основные направления развития современного мира.

Мир на пороге XXI века

Каковы основные тенденции развития современного мира?

ТЕНДЕНЦИИ РАЗВИТИЯ СОВРЕМЕННОГО МИРА

Основные тенденции развития современного мира

- Переход от биполярного к однополярному (в перспективе многополярному) миру
- Падение авторитета ООН как международного арбитра
- Наращение противоречий между странами Запада и промышленными державами Азиатско-Тихоокеанского региона
- Решение спорных вопросов мирным путем
- Разоружение как следствие отказа от войны как средства политики
- Рост религиозного фундаментализма и как следствие – рост противоречий между странами «золотого миллиарда» и исламским миром

2. Глобализация.

Выберите и запишите цифрами (сферу вниз) основные признаки глобализации.


Мир на пороге XXI века

Каковы основные признаки глобализации?

ГЛОБАЛИЗАЦИЯ

Основные признаки глобализации

- Возникновение единого информационного пространства
- «Подтягивание» всех стран мира к уровню жизни стран «золотого миллиарда»
- Гармоничное и самодостаточное развитие экономик всех стран
- Завершение процесса общемирового разделения труда
- Усиление процесса взаимосвязи и взаимограничения культур и цивилизаций
- Исчезновение войны как средства мировой политики



3. Вторжение США и их союзников в Югославию и Ирак.

Выберите верные ответы и запишите цифрами вопрос и ответ.

Мир на пороге XXI века

Выберите верные ответы.


ВТОРЖЕНИЕ США И ИХ СОЮЗНИКОВ В ЮГОСЛАВИЮ И ИРАК

Причина применения военной силы США и их союзников по НАТО против Югославии в 1999 году:

- Оказание военной помощи Югославии этническим сербам в Боснии и Хорватии
- Обострение этнического конфликта в Косово
- Поддержка освободительного движения в Черногории
- Стремление свергнуть и арестовать лидера Сербии С. Милошевича

Поводом для военного вмешательства США и их союзников против Ирака в 2003 году стало:

- Обвинение лидера Ирака С. Хусейна в сокрытии оружия массового поражения, а также поддержке терроризма
- Стремление взять под контроль нефтеносные территории Ближнего Востока
- Поддержка восстания курдов и шиитов в Ираке
- Ответ на вторжение иракских войск в Кувейте



4. Война в Ираке.

Прочитайте текст и запишите пропущенные слова под номерами.

Впишите с помощью клавиатуры пропущенные слова.


ВОЙНА В ИРАКЕ

Вторжение англо-американских войск в Ирак состоялось в 2003 году под предлогом необходимости обнаружения и уничтожения массового поражения.

В течении двух недель войскам коалиции удалось сломить сопротивление иракской армии и выйти к столице – .

Северная часть Ирака при поддержке войск коалиции перешла под контроль повстанцев.

В результате этой войны был свергнут режим .



5. Военные операции России.

Выберите и **запишите цифрами** в каких операциях принимали участие российские войска.

В каких операциях принимали участие российские войска?

ВОЕННЫЕ ОПЕРАЦИИ РОССИИ

Миротворческая операция ООН в Боснии и Герцеговине

Военная операция по свержению режима талибов в Афганистане


Военная операция по свержению режима С. Хусейна в Ираке

Миротворческая операция ООН в Косово

Гуманитарная операция в Сомали

Воружённый конфликт в Южной Осетии

Операции в которых принимали участие российские войска



Далее

Используя электронный учебник Артемов В.В., Лубченков Ю.Н. История: В 2 ч.Ч. 2

§ 90. Индия, Пакистан, Китай. стр. 275-286

Выполните следующие задание

6. Социально-экономическое развитие Китая.

Сопоставьте политические мероприятия с соответствующим периодом истории Китая. Отметьте «галочку» в соответствующем периоде.

Каким периодам истории Китая соответствуют данные политические мероприятия?

СОЦИАЛЬНО-ЭКОНОМИЧЕСКОЕ РАЗВИТИЕ КИТАЯ

	«Большой скачок»	«Культурная революция»	Рыночные реформы	
Форсированный экономический рост	<input checked="" type="checkbox"/>	<input checked="" type="checkbox"/>	<input checked="" type="checkbox"/>	
Уничтожение «буржуазной культуры»	<input checked="" type="checkbox"/>	<input checked="" type="checkbox"/>	<input checked="" type="checkbox"/>	
Привлечение иностранного капитала	<input checked="" type="checkbox"/>	<input checked="" type="checkbox"/>	<input checked="" type="checkbox"/>	
Репрессии против партийных и государственных функционеров	<input checked="" type="checkbox"/>	<input checked="" type="checkbox"/>	<input checked="" type="checkbox"/>	
Роспуск «народных коммун» и передача земли крестьянам	<input checked="" type="checkbox"/>	<input checked="" type="checkbox"/>	<input checked="" type="checkbox"/>	
Создание «народных коммун»	<input checked="" type="checkbox"/>	<input checked="" type="checkbox"/>	<input checked="" type="checkbox"/>	
Создание «свободных экономических зон»	<input checked="" type="checkbox"/>	<input checked="" type="checkbox"/>	<input checked="" type="checkbox"/>	
Стирание различий между городом и деревней путем создания «сельской» промышленности	<input checked="" type="checkbox"/>	<input checked="" type="checkbox"/>	<input checked="" type="checkbox"/>	
Обострение конфликта с СССР до вооруженного противостояния	<input checked="" type="checkbox"/>	<input checked="" type="checkbox"/>	<input checked="" type="checkbox"/>	

Используя электронный учебник Артемов В.В., Лубченков Ю.Н.
История: В 2 ч.Ч. 2

§ 88. Страны Восточной Европы стр. 268-275

Выполните следующие задания:

7. Распад мировой социалистической системы.

Запишите пропущенные слова под номерами.

Введите ответы при помощи клавиатуры и нажмите кнопку «Проверка».

РАСПАД МИРОВОЙ СОЦИАЛИСТИЧЕСКОЙ СИСТЕМЫ

В 1988–1989 гг. в советской политике произошли коренные перемены. Внутри страны власти постепенно отказывались от прежней советской идеологии. Серьезные перемены произошли в 1 _____ Европе. В 2 _____ г. по странам прокатилась волна революций, отстранивших от власти коммунистические партии. В 3 _____ 1989 г. прекратила существование 4 _____ стена – символ раздела Европы. В 5 _____ г. прекратило свое существование ОВД. К тому времени советские войска уже покинули 6 _____ и Чехословакию, а 7 _____ Германия, объединившись с ФРГ, примкнула к блоку 8 _____ .



Используя электронный учебник Артемов В.В., Лубченков Ю.Н.
История: В 2 ч.Ч. 2

Изучите § 96. советское общество в середине 1960-х — начале 1980-х гг.

Выполните следующие задания:

8. Реформы Косыгина.

Запишите цифрами (сферху вниз) из списка верные утверждения.

Экономическая политика СССР 1960-начале 1970-х годов

Выберите верные утверждения.

КОСЫГИНСКИЕ РЕФОРМЫ

В основу реформы был положен принцип жесткой регламентации экономики.

Реформа А.Н. Косыгина предполагала переход экономики от плановой к рыночной.

А.Н. Косыгин считал, что необходимо усилить экономическое стимулирование в промышленности.

Реформа была направлена на ослабление централизации хозяйственного управления.

В сельском хозяйстве планировалось вернуть понятие «трудодни».



9. Развитие промышленности.

Что предполагала реформа в промышленности? Выпишите цифрами (сферху вниз) из списка верные утверждения.

Что предполагала реформа промышленности?

РАЗВИТИЕ ПРОМЫШЛЕННОСТИ

да нет Перевод предприятий на хозрасчет.

да нет Возникновение частных предприятий.

да нет Сокращение числа директивно планируемых показателей.

да нет Учреждение поощрительных фондов.

да нет Переход только на рыночные методы регулирования.

да нет Жесткую централизацию хозяйственного управления.



Используя электронный учебник Артемов В.В., Лубченков Ю.Н.
История: В 2 ч.Ч. 2

Изучите § 99. Российская Федерация в конце XX — начале XXI в. стр. 341-351

Выполните следующие задания:

10. Экономический кризис 1980-х годов.

Выберите из списка и запишите цифрами (сверху вниз), что послужило причинами кризиса в 1980-х годах.

The interface features a scrollable list of five options on the left, a central empty box for the answer, and a list of two images on the right. The title 'ЭКОНОМИЧЕСКИЙ КРИЗИС 1980-Х ГОДОВ' is in a purple rounded rectangle. The question is on a scrollable parchment strip. The options are in yellow boxes on a green background. The images are on a white background with a red star graphic. There are also several small icons: a person, a hand, and a document.

Выберите, что послужило причинами кризиса в 1980-х годах?

ЭКОНОМИЧЕСКИЙ КРИЗИС 1980-Х ГОДОВ

Причины кризиса в 1980-х годах

- Падение цен на нефть
- Резкое увеличение количества населения в стране
- Выход некоторых республик из состава СССР
- Увеличение расходов на оборонную промышленность
- Увеличение цен на нефть

Кремль

ffc

11. Плановая и рыночная экономика: различия.

Запишите признаки (цифрами) плановой и рыночной экономик.

Установите верное соответствие.

ПЛАНОВАЯ И РЫНОЧНАЯ ЭКОНОМИКА: РАЗЛИЧИЯ

Рыночная экономика **Плановая экономика**



Контроль государства над экономикой




Закон спроса и предложения


Экономические ресурсы – государственная собственность

Потребители ограничены в выборе продуктов

Наличие свободной конкуренции

Помощь 

Выполненные задания (скриншот, фото) выслать

для проверки на электронную почту

kajgorodova2013@yandex.ru.